

ITALIA POPOLAZIONE

Cose da sapere

A. Le idee importanti

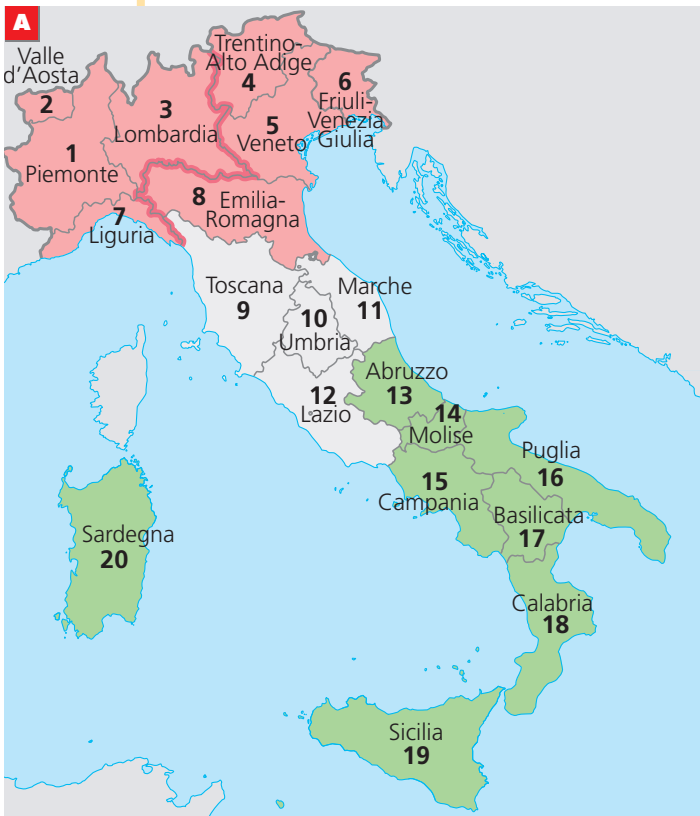
- L'Italia è uno Stato con 20 regioni e 103 province
- In Italia ci sono molte città. Le più grandi sono Roma, Milano, Napoli e Torino
- Fra le grandi città ci sono autostrade e ferrovie
- L'Italia è molto popolata: ha 57 milioni di abitanti
- Dove lavorano gli italiani
- Gli italiani del nord sono più ricchi di quelli del sud

■ L'Italia è uno Stato con 20 regioni e 103 province

L'Italia è uno **Stato**. È un tipo di Stato che si chiama **Repubblica**, perché non ha un re o una regina, ma un Presidente della Repubblica (che è eletto ogni 7 anni).

Lo Stato italiano ha un **territorio** (come tutti gli Stati). Il territorio dello Stato italiano è diviso in **20 regioni** e **103 province**.

Guarda bene queste due carte.



Nella carta A vedi le 20 regioni, con i loro nomi. Nella carta B vedi i nomi delle 103 province.

In ogni regione c'è una città scritta più grande: è il **capoluogo della regione**. Le regioni che hanno più province sono quelle più grandi o quelle che hanno più abitanti e più città.

Guarda i colori della carta A e scrivi i nomi delle 8 regioni dell'Italia settentrionale:

- | | |
|----------|----------|
| 1) | 2) |
| 3) | 4) |
| 5) | 6) |
| 7) | 8) |

Scrivi i nomi delle 4 regioni dell'Italia centrale:

- | | |
|----------|----------|
| 1) | 2) |
| 3) | 4) |

Scrivi i nomi delle 10 regioni dell'Italia meridionale:

- | | |
|----------|-----------|
| 1) | 2) |
| 3) | 4) |
| 5) | 6) |
| 7) | 8) |
| 9) | 10) |

Guarda la carta B e collega la regione al capoluogo della regione:

- | | |
|-----------------------|------------|
| Piemonte | Bologna |
| Valle d'Aosta | Firenze |
| Lombardia | Palermo |
| Trentino-Alto Adige | Venezia |
| Veneto | Cagliari |
| Friuli-Venezia Giulia | Bari |
| Liguria | Napoli |
| Emilia Romagna | Torino |
| Toscana | Roma |
| Umbria | Aosta |
| Marche | Perugia |
| Lazio | Aosta |
| Abruzzo | Genova |
| Molise | Milano |
| Campania | Trento |
| Puglia | Trieste |
| Basilicata | Catanzaro |
| Calabria | L'Aquila |
| Sicilia | Campobasso |
| Sardegna | Ancona |
- 

Quali sono le quattro regioni che hanno più province?

- | | |
|----------|----------|
| 1) | 2) |
| 3) | 4) |

Quali sono le tre regioni che hanno meno province?

- | |
|----------|
| 1) |
| 2) |
| 3) |

■ In Italia ci sono molte città. Le più grandi sono Roma, Milano, Napoli e Torino

In Italia ci sono molte città: pensa che 67 italiani su 100 vivono in città (e solo 33 vivono in campagna).

Guarda la carta:



Dieci città italiane sono **grandi** (hanno più di 300 mila abitanti).

Le quattro più grandi sono: **Roma**, che è anche la capitale dell'Italia, e si trova nell'Italia centrale; **Milano**, nell'Italia settentrionale; **Napoli**, nell'Italia meridionale; e **Torino**, nell'Italia settentrionale.

Altre città italiane sono medie (hanno più di 150 mila abitanti).

Scrivi qui sotto i nomi delle altre 6 grandi città italiane:

- 1)
- 2)
- 3)
- 4)
- 5)
- 6)

■ Fra le grandi città ci sono autostrade e ferrovie

Autostrade e ferrovie collegano le principali città italiane.
Guarda bene la carta:



Le più importanti sono:

da ovest a est l'autostrada e la ferrovia: Torino-Milano-Venezia -Trieste;
da nord a sud l'autostrada e la ferrovia: Milano-Bologna-Firenze-Roma; la Bologna-Bari e la Genova-Roma-Reggio Calabria.

Tutte queste autostrade e ferrovie corrono vicino alle Alpi e agli Appennini. Insieme, sembrano la lettera T.

■ L'Italia è molto popolata: ha 57 milioni di abitanti

L'Italia è molto popolata: ha 57 milioni di abitanti. Pochi Paesi in Europa hanno più abitanti: la Germania e la Francia, che però sono anche più grandi, e il Regno Unito.

L'Italia è molto abitata in pianura, sulle coste e anche in collina. Solo in montagna è poco abitata.

Le regioni più popolate sono quattro:

- 1) la **Lombardia**, che ha 9 milioni di abitanti
- 2) la **Campania**, che ha 5,7 milioni di abitanti
- 3) il **Lazio**, che ha 5,1 milioni di abitanti
- 4) la **Sicilia**, che ha 4,9 milioni di abitanti

Le due regioni meno abitate sono le più piccole e montuose: la Valle d'Aosta e il Molise.

Tra il 1955 e il 1970 tanti italiani del sud sono andati a lavorare e a vivere nelle grandi città del nord, soprattutto a Milano e Torino, dove c'erano più industrie (questo si chiama **migrazione interna**).

Tanti italiani, fra il 1861 e il 1970 sono anche andati a lavorare e vivere in altri Paesi dell'America (soprattutto negli Stati Uniti e in Argentina) e dell'Europa (soprattutto in Germania, in Francia, in Belgio e in Svizzera) e in Australia. (Questo si chiama **emmigrazione**. Gli italiani erano **emigranti**).

Oggi, invece, tante persone vengono a lavorare in Italia dall'Africa, dalla Cina, dalle Filippine e dall'Europa dell'Est. Oggi ci sono quindi tanti **immigrati**.

Prima l'Italia aveva tanti emigranti, adesso ha tanti immigrati.

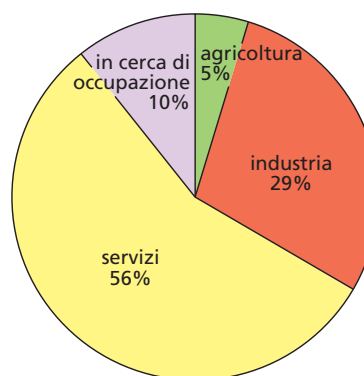
■ Dove lavorano gli italiani

In Italia ci sono circa 24 milioni di persone che lavorano o cercano un lavoro (la popolazione totale è di 57 milioni).

Più della metà degli italiani lavora nel **settore terziario** (o settore dei **servizi**).

Quasi il 30% degli italiani lavora nell'**industria** (**settore secondario**).

Il 5% lavora nell'**agricoltura** (**settore primario**) e il 10% **cerca lavoro**.



In Italia, come negli altri Paesi europei, ci sono ormai pochissime persone che lavorano nell'agricoltura, perché in campagna tanti lavori sono fatti dalle macchine. Nell'industria lavora ancora tanta gente, ma sempre più persone lavorano nel settore terziario o dei servizi, che è grandissimo.

Però ci sono grandi differenze fra una regione e l'altra: in Lombardia, una regione ricca, c'è solo il 4% di persone che cerca un lavoro. In Calabria, una regione povera, il 26% delle persone cerca lavoro e il 9% lavora nell'agricoltura (ci sono anche poche industrie).

■ Gli italiani del nord sono più ricchi di quelli del sud

In media, gli italiani delle regioni settentrionali sono un po' più ricchi di quelli delle regioni del centro e più ricchi di quelli delle regioni meridionali.

Attenzione però! Il reddito per persona **non** vuol dire che ogni persona guadagna quei soldi. Quella cifra si ottiene dividendo tutto quello che si produce (il Prodotto interno lordo) in una regione per il numero di abitanti. Così si può avere una media della ricchezza degli abitanti delle diverse regioni.

B. Esercizi

● Segna la risposta giusta

- | | | |
|--|----------------------------|----------------------------|
| a) L'Italia ha 20 regioni | <input type="checkbox"/> V | <input type="checkbox"/> F |
| b) La regione con più province è la Lombardia | <input type="checkbox"/> V | <input type="checkbox"/> F |
| c) La città più grande dell'Italia settentrionale è Milano | <input type="checkbox"/> V | <input type="checkbox"/> F |
| d) La città più grande d'Italia è Roma | <input type="checkbox"/> V | <input type="checkbox"/> F |
| e) Le regioni con più abitanti sono La Sicilia e la Sardegna | <input type="checkbox"/> V | <input type="checkbox"/> F |

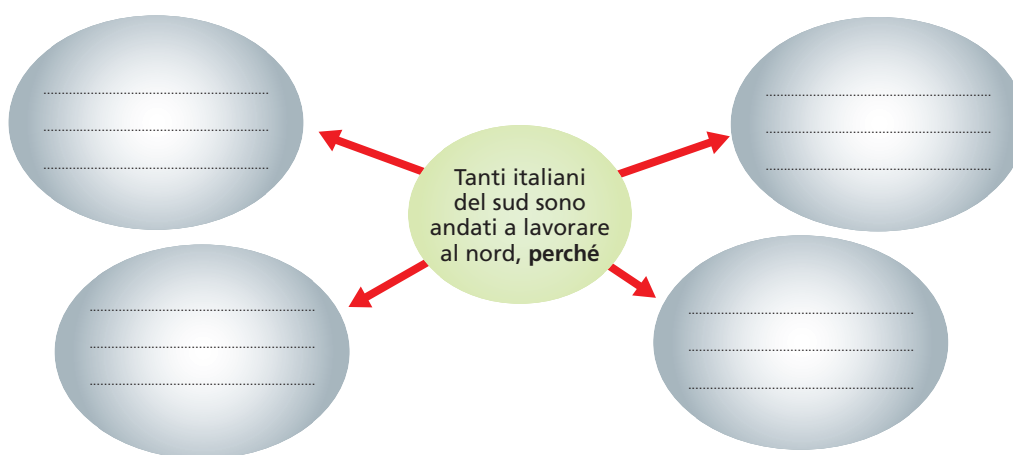
- f) Oggi in Italia ci sono 80 milioni di persone V F
 g) Per tanti anni molti italiani hanno cercato lavoro in altri Paesi V F
 h) La maggior parte degli italiani lavora nell'industria V F

• **Segna le risposte giuste (due sono sbagliate)**

Tra il 1955 e il 1970 tanti italiani del sud sono andati a lavorare nell'Italia del nord, **perché**:

- a) nell'Italia del nord il clima è buono
 b) le industrie del nord avevano bisogno di operai
 c) nel sud non c'erano molte industrie
 d) il sud era povero
 e) speravano di guadagnare di più
 f) nell'Italia del sud c'era la guerra

Scrivi adesso le risposte giuste nei cerchi



• **Collega con una freccia:**

- | | | |
|--|--|--|
| <p>L'Italia settentrionale ha
 L'Italia centrale ha
 L'Italia del sud ha
 Le regioni più ricche sono quelle
 Ferrovie e autostrade collegano
 In Italia ci sono molti abitanti
 Tanti anni fa l'Italia aveva
 Oggi l'Italia ha</p> | | <p>dieci regioni
 quattro regioni
 otto regioni
 le principali città italiane
 settentrionali
 in pianura, in collina e sulle coste
 tanti immigranti
 tanti emigranti</p> |
|--|--|--|

• **Rileggi ogni idea importante che hai studiato.**

Per ogni idea, ripeti tutto quello che ti ricordi usando le parole che hai imparato. Quando parli, guarda la carta dell'Italia o le immagini.