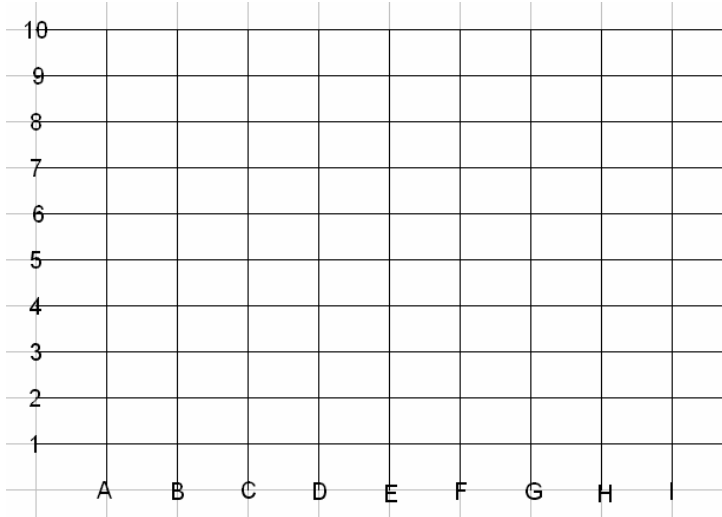


Angoli

Collega nell'ordine indicato, i punti individuati dalle coordinate. Colora poi gli angoli retti che trovi nel percorso tracciato.


A10. C7. F7. H10. H7. G7. G1. B1. B7. A7. A 10




Scrivi se ogni frase è Vera o Falsa

- Un angolo ottuso è più ampio di un angolo retto
- Un angolo acuto è più ampio di un angolo retto
- Un angolo retto è la quarta parte dell'angolo giro
- Un angolo piatto è più ampio di un angolo giro
- Un angolo retto è più ampio di un angolo piatto
- Un angolo convesso contiene i prolungamenti dei lati
- Un angolo retto è metà di un angolo piatto


Scrivi qual è l'ora indicata e che tipo di angolo è formato dalle due lancette




Ora P.M. :
Angolo



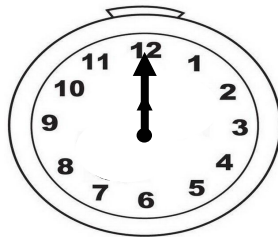
Ora P.M. :
Angolo




Ora A.M. :
Angolo



Ora A.M. :
Angolo



Ora P.M. :
Angolo



Ora P.M. :
Angolo

Disegna tu la seconda lancetta in modo che l'angolo sia quello indicato

