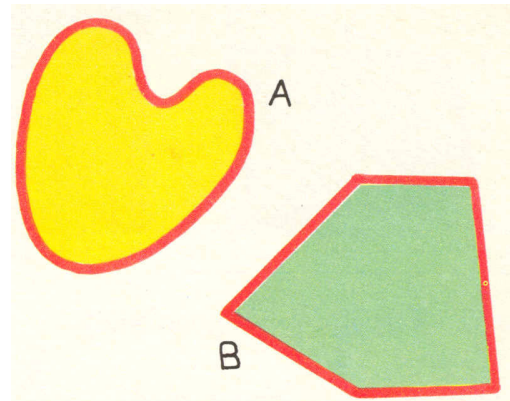



I poligoni verifica - data _____

Vedi disegnate due regioni A e B. Osserva la loro frontiera.
 La regione A ha una frontiera *curvilinea*. La regione B ha una frontiera formata tutta da *segmenti*.
 Quando una regione ha la frontiera formata tutta da segmenti la chiamiamo *poligono*. Allora la regione B è un

.....

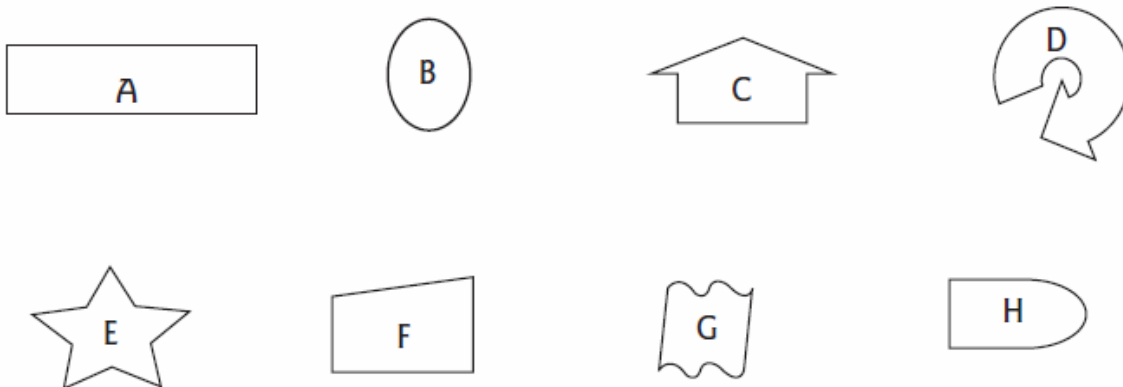


Delle seguenti regioni individua quali sono dei *poligoni*:



Sono dei poligoni le regioni:

Non sono dei poligoni le regioni:



Colora di giallo i poligoni concavi

Quali sono i poligoni convessi?